


Graad 3: Week 11&12

Afrikaans



Beroepe en Herfs



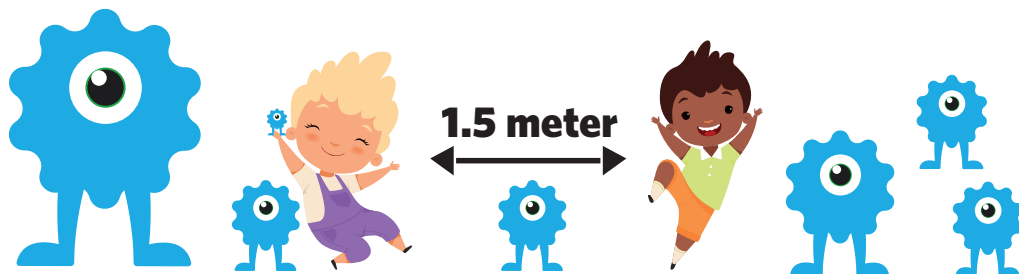
Ministry of Education,
Arts and Culture



NAMIBIAN
COMMUNITY TRUST

unicef 
for every child





These numbers indicate which day you can complete each worksheet! But if you want to, you can work ahead and do the rest as well.

This publication is a collaboration between the Ministry of Education, Arts and Culture and Namibia Media Holdings. This publication is sponsored by the Ministry.

Copyright © Ministry of Education, Arts and Culture. All parts of this publication cannot be reproduced, stored in a retrieval system or transmitted in any form or by any means, electronic, mechanical, photocopying, recording or otherwise without prior permission of the Ministry of Education, Arts and Culture or the Publisher.

Production by: Namibia Media Holdings  **NAMIBIA MEDIA HOLDINGS**

Printing: Newsprint Namibia 

Beroepe en Herfs

Lees die storie en beantwoord die vrae.

Wat gaan Hugo Hasie eendag word?

Die pappa haas gooi sy babatjie in die lug en vang hom. "Wat gaan Hugo die haas eendag word?" vra die pappa haas. Baba hasie is in sy mandjie en lag vir sy mamma en pappa. Hy weet wat hy eendag wil word. Ek dink ons baba hasie moet 'n vlieënier word as hy groot is, se die suster. Dit is lekker om uit 'n vliegtuig met 'n valskerm te spring. Hy kan 'n brandweerman word, se sy tannie. Dan ry hy in 'n groot trok na al die vure. Hy kan 'n boer word wat 'n mooi rooi trekker ry, sê sy oom haas. Maar baba hasie wil nie 'n vlieënier of 'n brandweerman of 'n boer word as hy groot word nie. Hy spring op sy pa se knie.

1. Kan jy raai wat Hugo die hasie graag wil word?

2. Wie dink hy moet 'n vlieënier word?

3. Wat doen brandweermanne?

4. Wat wil jy graag word as jy eendag groot is?



Spelling & Sigwoorde

Spelling:

straat verkopers
winkeleienaars
kliënte
vlieëniers
valskerm
brandweerman
boer
vliegtuig
trok

Sigwoorde:

werk
gaan
skryf
was
sal
word
bestuur
wil



Phonics

Read the story and answer the questions:

oy

oi



Write the letters on the lines.

Write the letters on the lines.

oy

oi

Circle the word that matches the picture.

<p>day boy bay</p> 	<p>point boil boy</p> 
---	--

Circle the words that have the oy sound as in boy.

Circle the words that have the oi sound as in boil.

toy day Jay Roy
 coy bay map boy
 tray may stay toys

coin jail sail oil
 nail hail pail join
 boil point soil tail

Write three words that have the oy sound as in boy.

Write three words that have the oi sound as in boil.

Week 11
 Gradd 3



Voorsetsels

Piekniek in die platteland

Die Smit's het 'n lekker dag buite. Dit is die laaste van die lekker somers dae.

Waar is hulle?
in / op / onder
langsaan / tussen /
agter / voor / naby



1. Die piekniek mandjie is _____ die mat.
2. Die piesangs is _____ Ma en Susi.
3. Die perd is _____ die berg.
4. Die voetbal is _____ Pa en Jack.
5. Die voël nes is _____ die boom.
6. Die hond is _____ Pa en Jack.
7. Die padda is _____ die riete.
8. Die riete is _____ die padda.
9. Die eend is _____ die poel.
10. Ma en Susi is _____ die mat.
11. Die blou bal is _____ die wit blomme.
12. Die appel is _____ die boom.


Lettergrepe

Lettergrepe is die klanke wat woorde maak. Die woord bel het een lettergreep. Die woord rekenaar het drie lettergrepe. Sing die woorde in die boks en skryf dit onder die regte aantal lettergrepe. Skryf dan 'n sin, van een woord uit elke kolom.



**Een
lettergreep**

1. _____
2. _____
3. _____
4. _____



**Twee
lettergrepe**

1. _____
2. _____
3. _____
4. _____



**Drie
lettergrepe**

1. _____
2. _____
3. _____
4. _____




Onreëlmatige meervoudige naamwoorde

1. Die _____ het 'n opvoering in die theatre gaan kyk.
(kind / kinders)
2. Ma koop twee _____ brode in die winkel.
(bak / baksel)
3. Ek hou van herfs as al die _____ van die bome val.
(blaar / blare)
4. Drie klein _____ is 'n afrikaanse storie.
(vark / varke)
5. Ek het tandarts toe gegaan om al my _____
te gaan skoonmaak. (tand / tande)
6. Die _____ het al die juwele gesteel.
(dief / diewe)
7. Die koei het twee baba _____ .
(kalf / kalwers)
8. Ons het _____ vir almal vir kersfees gekoop.
(serp / serpe)
9. Ons het vyf _____ by die dieretuin gesien.
(skaap / skape)
10. Die dam was vol verskillende _____ .
(vis / visse)



Kreatiewe skryfwerk

Skryf jou eie storie van vyf sinne oor wat jy eendag wil word, en hoekom:



Week 11

Gradd 3





Somme van 10


Maak somme van 10 deur sirkels te trek.

6	4	7	5	5
2	8	3	6	2
9	10	4	9	7
1	0	8	3	4
6	5	2	9	6
3	7	1	5	5
4	7	3	2	8

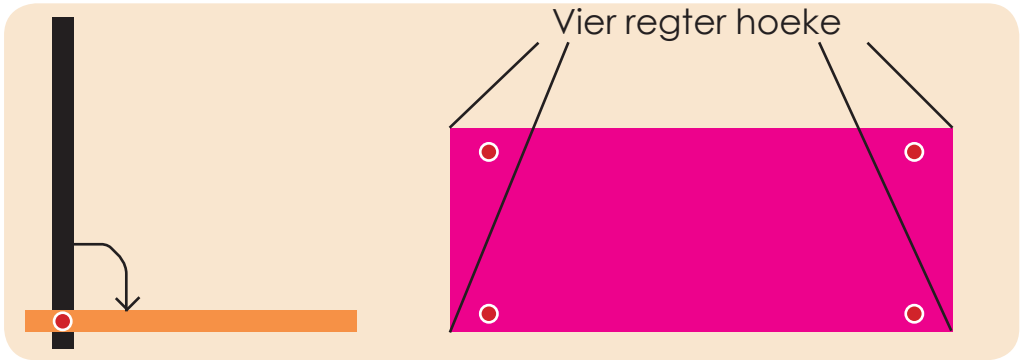


Vorms

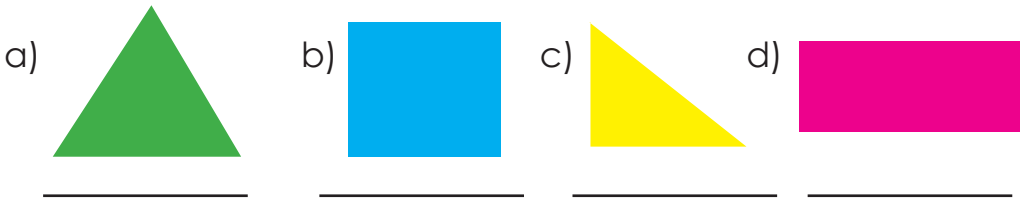
1. Hierdie is 'n vyfhoek
Gebruik die tekening en antwoord die vrae:



- a) Hoeveel kante het die tekening. _____
- b) Is die kante dieselfde lengte. _____
- c) Hoeveel driehoeke het jy nodig om 'n vyfhoek te maak? Wys jou antwoord. _____



2. Skryf die name van die vorms.



Voltooi die vorms wat by die eienskappe pas.

Eienskappe	Vorms
Gelyke kante	
Reguit kante	
Gebuigde kante	
Vier hoeke	



Aftrekking

$$\begin{array}{r} 92 \\ - 89 \\ \hline \\ \hline \end{array}$$

$$\begin{array}{r} 46 \\ - 18 \\ \hline \\ \hline \end{array}$$

$$\begin{array}{r} 55 \\ - 27 \\ \hline \\ \hline \end{array}$$

$$\begin{array}{r} 76 \\ - 39 \\ \hline \\ \hline \end{array}$$

$$\begin{array}{r} 92 \\ - 79 \\ \hline \\ \hline \end{array}$$

$$\begin{array}{r} 58 \\ - 29 \\ \hline \\ \hline \end{array}$$

$$\begin{array}{r} 93 \\ - 45 \\ \hline \\ \hline \end{array}$$

$$\begin{array}{r} 84 \\ - 56 \\ \hline \\ \hline \end{array}$$

$$\begin{array}{r} 92 \\ - 34 \\ \hline \\ \hline \end{array}$$



Probleem oplossing

4

1. Daar is 178 manlike dokters en 163 vroulike dokters by die werkswinkel. Van hierdie dokters het 244 bruin oë. Hoeveel dokters het nie bruin oë nie?

2. Jeff het 558 kontrak werkers. 116 werkers is bouers, en 323 is teëlers. Hoeveel werkers is nie bouers of teëlers nie?

3. 51 kinders en 24 onderwysers het 'n nuwe film Vrydag aand gaan kyk. As die teater 95 sitplekke het. Hoeveel sitplekke was leeg?

4. Die drywer, Mnr. Trevor, moet vir 100km bestuur. As hy vir 45 km in die oggend gebestuur het, en 12 km in die namiddag, hoeveel km moet hy nog bestuur?

Week 11

Graad 3



Nommers

1. Vind die ontbrekende nommers.

a. $2 + \underline{\quad} = 20$

f. $2 + \underline{\quad} = 19$

b. $11 + \underline{\quad} = 20$

g. $9 + \underline{\quad} = 17$

c. $\underline{\quad} + 3 = 20$

h. $\underline{\quad} + 3 = 15$

d. $\underline{\quad} + 15 = 20$

i. $\underline{\quad} + 15 = 16$

e. $7 + \underline{\quad} = 20$

f. $7 + \underline{\quad} = 19$

2. Rond af tot die naaste 10.

a)



b)



c)



d)



e)



f)



a _____

b _____

c _____

d _____

e _____

f _____

3. Skryf die volgende 2 nommers in die patroon.

a. 57, 59, 61, _____, _____ b. 60, 63, 66, _____, _____

c. 70, 75, 80, _____, _____ d. 40, 50, 60, _____, _____


e. 80, 84, 88, _____, _____ f. 95, 90, 85, _____, _____



Deling

Verdeel die kolle deur:

Voorbeeld:




$$10 \div 2 = 5$$

$$10 \div 3 = 3 \text{ res } 1$$

$$10 \div 4 = 2 \text{ res } 2$$

$$10 \div 5 = 2$$



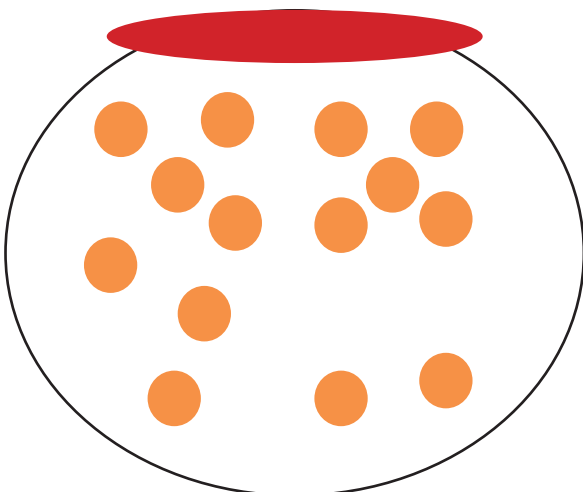
Verdeel die kolle deur:

a. 2 _____

b. 3 _____

c. 4 _____

d. 5 _____



Verdeel die kolle deur:

a. 2 _____

b. 3 _____

c. 4 _____

d. 5 _____



Kalender van Maart

Gebruik die kalender om die vrae te antwoord:

S	M	D	W	D	V	S
	1	2	3	4	5	6
7	8	9	10	11	12	13
14	15	16	17	18	19	20
21	22	23	24	25	26	27
28	29	30	31			

1. Skryf die datum van die eerste Maandag: _____
2. Skryf die datum van die laaste Vrydag: _____
3. Hoeveel dae van die 10de tot 23ste Maart? _____
4. Hoeveel dae tussen die 15de en 26ste dag? _____
5. Op watse dag het Onafhanklikheids Dag in 2021 geval?

6. Skryf die dag van 12de Maart 2021. _____
7. Skryf die dag van 29ste Maart 2021 _____
8. Wat was die laaste dag in Februarie 2021? _____
9. Watse dag gaan die eerste dag in April 2021 wees?



Lees die gedig

Herfs tyd

Die wind speel herfs speletjies.

Deur die tuine en lane.

Tel dit op, en warrel rond.

Blare van oranje, rooi, en bruin.

Sluip deur elke swaaiende boom.

Gooi appels af

Skud peule tot hulle afval.

Die wind dans rond met opgewondenheid.

Lag in die herfs sonnetjie.

Die wind waai peule en blare rond

Om 'n mat onder die bome te vorm.



Spelling

temperatuur
blare
winderig
warm
bome
diere
plante

Sigwoorde

bruin
weet
nou



Phonics: aw & ow

aw ow

Write the letters on the lines.

Write the letters on the lines.

aw _____

ow _____

Circle the word that matches the picture.

say saw slow

flower flow flew



Circle the words that have the letters aw.

Circle the words that have the letters ow.

paw snow lawn
 fawn bowl yawn
 saw law cow

flower claw towel
 howl straw brown
 crown owl tail

Write three words that have aw as in saw.

Write three words that have ow as in cow.

Week 12

Gradd 3



Werkwoorde

Kyk na die prente hieronder en skryf die korrekte woord by die regte prentjie:

speel
videospelletjies

dans

skryf

studeer

gaan

drink

luister

ry 'n fiets

speel sokker

lees

stap

kook

swem

hardloop

eet

speel klavier

Week 12

Graad 3



Vraag woorde

Wie

hou ek van om mee te speel?

Wanneer

doen ek hierdie aktiwiteit?

Hoekom

doen ek die aktiwiteit?

Wat

is my gunsteling aktiwiteit?

Waar

doen ek hierdie aktiwiteit?

Hoe


voel ek as ek die aktiwiteit doen?



Week 12
Graad 3

My gunsteling aktiwiteit is om koek te bak. Ek hou daarvan omdat dit pret is, ek hou daarvan om my lekker koek te eet met versierings op. Gewoontlik is ek alleen as ek koek bak.

Ek bak koek op naweke. Ek doen hierdie aktiwiteit in my kombuis by my huis. As ek koek bak voel ek baie rustig en bly.



Voornaamwoorde

Verbind die woord of groep woorde op die linker kant met die regte voornaamwoord aan die regter kant:

- | | | |
|----|------------------------|-----------------|
| 1. | Ek en Pat | a. hy |
| 2. | Joseph | b. sy |
| 3. | Alicia | c. ons |
| 4. | Die groot trok | d. hulle |
| 5. | Kevin en Martin | e. dit |



Skryf 'n voornaamwoord wat die plek kan vat van die onderstreepte woord/e in elke sin:

1. Joseph hou daarvan om te sing _____
2. Jennifer en Karl hou daarvan om na Joseph se sang te luister. _____
3. Joseph gaan saam met Olivia sing. _____
4. Olivia het ook 'n baie mooi stem. _____
5. Die konsert gaan môre aand wees. _____
6. Ek en Freddy gaan in die voorste ry sit. _____
7. Freddy gaan saam met Joseph se ouers gaan.





Word search

Autumn Word Search

h	t	b	x	t	n	y	e	l	l	o	w
b	r	o	w	n	s	e	j	j	s	l	s
g	b	h	v	t	t	p	y	u	q	i	c
c	q	q	z	f	x	a	e	j	u	c	a
m	l	e	a	v	e	s	c	a	i	w	r
c	j	s	y	i	l	g	b	o	r	k	e
h	a	r	v	e	s	t	o	d	r	i	c
f	s	e	u	o	r	a	n	g	e	n	r
w	a	d	k	l	a	p	f	q	l	r	o
s	s	l	d	q	f	x	i	g	x	a	w
k	b	m	l	y	l	h	r	c	x	k	p
a	p	p	l	e	b	h	e	y	c	e	h

Week 12

Gradd 3

rake

scarecrow

brown

yellow

squirrel

leaves

apple

red

bonfire

harvest

fall

pear

orange

acorn



Vermenigvuldiging

1. Vermenigvuldig en kry die ontbrekende getalle:

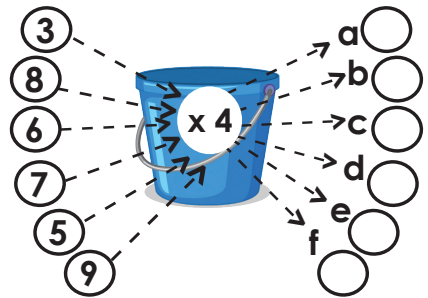
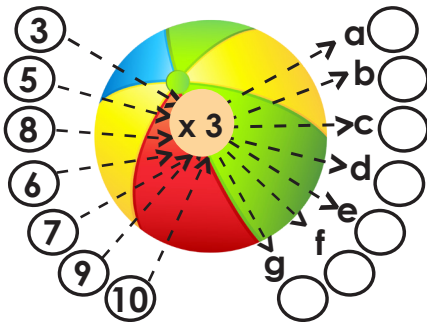
x	1	2	3	4	5	10
1	1	2	3			10
2	2	4	6			
5	5			20		
10	10	20	30	40		

2. Maal 3



3. Maal 4

Week 12

Graad 3




4. Breek getalle in gelyke groepe op.




Vorms

1. Gebruik vorms om die vrae te antwoord:
Skryf die naam van elke vorm?



a. _____ b. _____ c. _____
 d. _____ e. _____ f. _____

2. Verbind die twee tekeninge met dieselfde vorm maar verskillende groottes.



3. Gebruik die tekening om die vrae te antwoord:
Tel en skryf neer:

- | | |
|---------------------|------------------------|
| 1. reghoeke: _____ | 2. regter hoeke: _____ |
| 3. vierkante: _____ | 4. vyfhoeke: _____ |
| 5. ovale: _____ | |



Week 12
Gradd 3



Probleem oplossing:

1. Marion het twee bokse potlode, met veertig potlode in elke boks. Hy gee 6 potlode vir sy broer. Hoeveel potlode het hy oor?

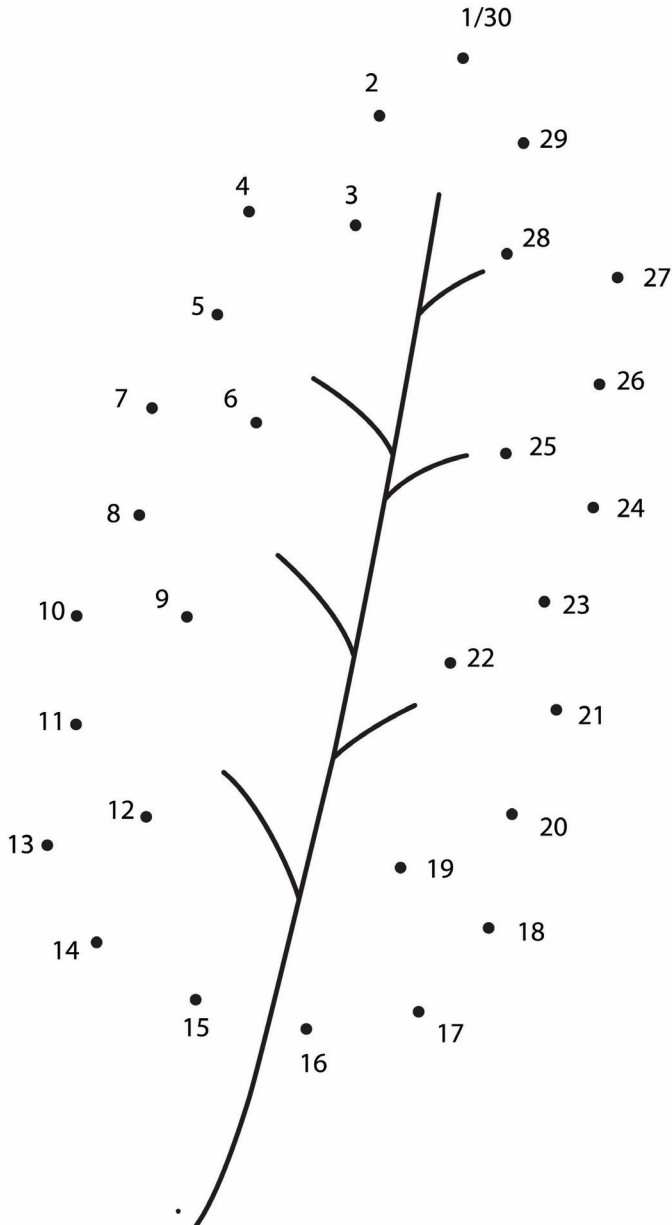
2. By die Pop bakery, kos kolwyntjies vyftig sent elk. 'n Sny koek kos een dollar vyf en twintig sent. Hoeveel meer kos twee snye koeke as twee kolwyntjies?

3. Pam en Ben gaan 'n film kyk. Pam het twee kaartjies gekoop vir N\$7,35 elk. Ben het twee bakke springmielies gekoop vir N\$5,60 elk. Hoeveel meer het Pam as Ben uitgegee?

4. Daar is 95 graad 3 leerders by Herfs primêre skool. 43 van hulle is meisies. Op Vrydag was 5 graad 3 meisies en 4 graad 3 seuns afwesig. Hoeveel graad 3 seuns was Vrydag by die skool?



Verbind die kolle.



Noem die munte en note:

Noem die munte en note:







Skryf die tabel oor en beskryf die note.

Note	Kleur	Kop aan die voorkant	Diere op die agterkant	Aantal diere
a) N\$ 10				
b) N\$ 20				
c) N\$ 50				
d) N\$ 30				
e) N\$100				

Week 12
Graad 3

Optelling en aftrekking

5

$$\begin{array}{r} 52 \\ +26 \\ \hline \\ \hline \end{array}$$

$$\begin{array}{r} 81 \\ - 19 \\ \hline \\ \hline \end{array}$$

$$\begin{array}{r} 68 \\ - 13 \\ \hline \\ \hline \end{array}$$

$$\begin{array}{r} 33 \\ + 21 \\ \hline \\ \hline \end{array}$$

$$\begin{array}{r} 98 \\ - 14 \\ \hline \\ \hline \end{array}$$

$$\begin{array}{r} 27 \\ - 18 \\ \hline \\ \hline \end{array}$$

$$\begin{array}{r} 82 \\ + 14 \\ \hline \\ \hline \end{array}$$

$$\begin{array}{r} 78 \\ - 40 \\ \hline \\ \hline \end{array}$$

$$\begin{array}{r} 63 \\ - 35 \\ \hline \\ \hline \end{array}$$

Week 12

Gradd 3

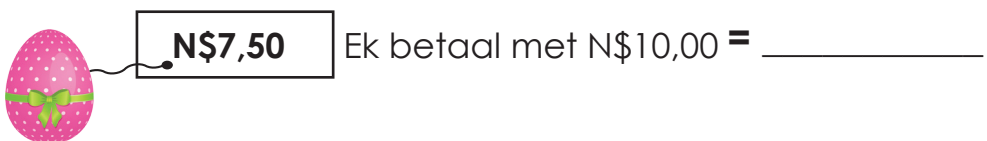
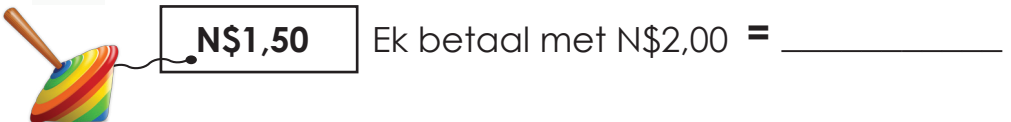



Geld

Skryf die totale bedrag:



Hoeveel kleingeld sal ek kry as:





ESTEEMED STAKEHOLDERS

On behalf of the Ministry of Education Arts and Culture, we wish to take this opportunity to thank you all, who have completed the survey as per our call. The survey has made it possible for all the schools that has completed it fully, to be able to receive the correct number of books in terms of quantities as well as the amount of books needed for languages used.

We are certain that there are schools that has not yet completed due to various challenges and we are kindly requesting the Principals of such schools to get in touch with our office at mobile number +264 81 850 3609 or by email sophy@nmh.com.na to be able to still receive their surveys so that we complete the process.

We are confident that this initiative by the Ministry of Education, Arts and Culture is embraced by all stakeholders and as a distribution partner, we look forward to a productive 2021.

NMH NAMIBIA
MEDIA
HOLDINGS



Success begins with education

Parents will be able to visit the website and watch daily videos or they can subscribe to our Zoshy Telegram channel to receive daily videos. One can also download the PDF version of the book on the website. Also watch our daily show on Active Kids to watch your favourite lessons.



<https://t.me/zoshyonline>



ONLINE

For extra perks!

How does it work?



Easy peasy steps to follow

Register at zoshy

You can save your favourite lessons and find them easier



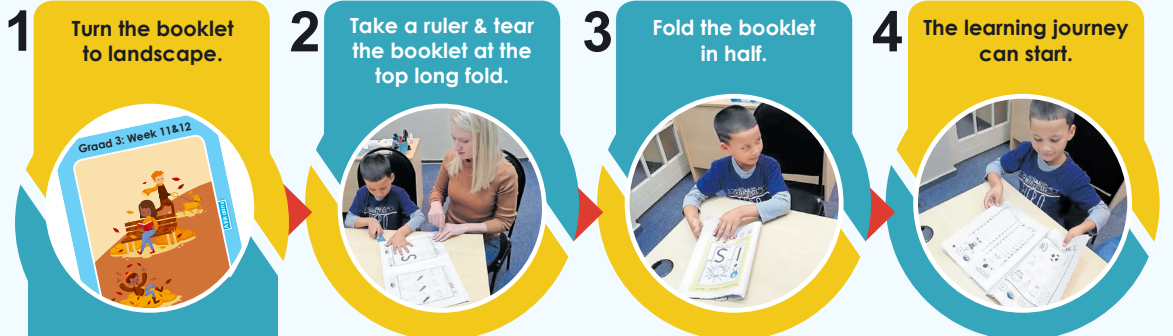
- Step 1: Find us at www.zoshy.online or scan the QR code
- Step 2: Find your grade and select the year
- Step 3: Choose your language
- Step 4: Choose the week you want to learn out of
- Step 5: Choose lessons from what lessons there are
- Step 6: Download booklet if you do not have it
- Step 7: Watch and follow the teacher as she explains what to do in the book
- Step 8: Follow us on Facebook (Zoshy & Active Kids) to never miss a video
- Step 9: Subscribe to our Zoshy Telegram channel if you want to receive daily updates



www.zoshy.online

In collaboration with the Ministry of Education, Arts and Culture

PRINT



STEPS
HOW TO TEAR & USE
THE BOOKLET

