


Klasse 3: Woche 11 & 12

Deutsch



Berufe & Herbst



Ministry of Education,
Arts and Culture

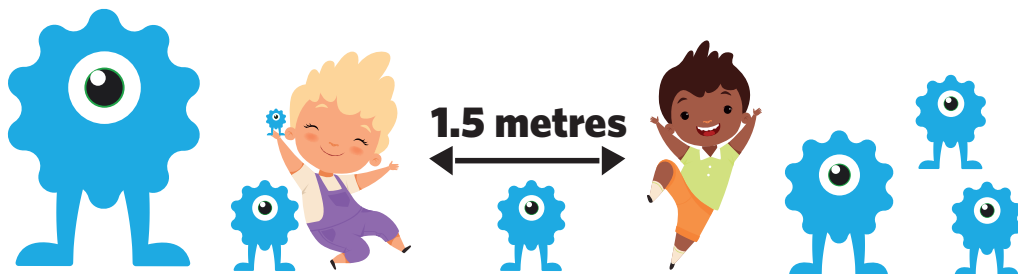


NAMIBIAN
COMMUNITY TRUST

unicef 
for every child



ONLINE SCHOOL



These numbers indicate which day you can complete each worksheet! But if you want to, you can work ahead and do the rest as well.

This publication is a collaboration between the Ministry of Education, Arts and Culture and Namibia Media Holdings. This publication is sponsored by the Ministry.

Copyright © Ministry of Education, Arts and Culture. All parts of this publication cannot be reproduced, stored in a retrieval system or transmitted in any form or by any means, electronic, mechanical, photocopying, recording or otherwise without prior permission of the Ministry of Education, Arts and Culture or the Publisher.

Production by: Namibia Media Holdings  **NAMIBIA MEDIA HOLDINGS**

Printing: Newsprint Namibia 

Berufe und Herbst

Lies die Geschichte und beantworte die Fragen:

Was will Hans Hase werden?

Vater Hase wirft Baby Hase mit dem Namen Hans in die Luft und fängt es wieder auf. „Was möchte Hans Hase werden, wenn er groß ist?“, fragt Vater Hase. Als Hans Hase wieder in seinem Körbchen sitzt, lächelt er Vater und Mutter an. Er weiß, was er eines Tages werden will. Seine Schwester sagt: „Hans Hase soll ein Pilot werden. Dann kann er mit dem Fallschirm aus dem Flugzeug springen.“ Seine Tante meint: „Hans Hase soll ein Feuerwehrmann werden. Dann fährt er mit dem großen, roten Feuerwehrauto zu all den Bränden.“ Sein Onkel ist dagegen und sagt: „Hans Hase soll Farmer werden. Dann kann er den tollen Traktor fahren.“ Aber Hans Hase möchte weder Pilot, noch Farmer oder Feuerwehrmann werden. Nun sitzt er auf Vaters Schoß und sie spielen „Hoppe, hoppe, Reiter.“

1. Kannst du erraten, was Hans Hase werden möchte?

2. Wer denkt, dass er Pilot werden sollte?

3. Was machen Feuerwehrmänner?

4. Was möchtest du werden, wenn du groß bist?



Wortschatz

Straßenverkäufer
 Ladenbesitzer
 Handwerker
 Kunden
 Pilot
 Fallschirm
 Feuerwehrmann
 Farmer
 Flugzeug
 Lastkraftwagen

Merkwörter

arbeiten
 gehen
 schreiben
 waschen
 sollen
 werden
 fahren
 möchten



oy

oi

Schreibe die Buchstaben auf die Linien.

oy

oi

Ziehe einen Kreis um das Wort, das zu dem Bildchen passt.

day

boy

bay



point

boil

boy



Ziehe einen Kreis um alle Wörter, die sich wie „boy“ anhören.

Ziehe einen Kreis um alle Wörter, die sich wie „boil“ anhören.

toy day Jay Roy

coy bay map boy

tray may stay toys

coin jail sail oil

nail hail pail join

boil point soil tail

Schreibe drei Wörter, die sich auf „boy“ reimen.


Schreibe drei Wörter, die sich auf „boil“ reimen.



Präpositionen

Picknick im Feld

Wo befinden sie sich?
 in / auf / unter/
 neben / zwischen/
 hinter / vor /
 in der Nähe von



1. Der Picknickkorb steht _____ auf der Picknickdecke.
2. Die Bananen liegen _____ zwischen Mutter und Susi.
3. Das Pferd läuft _____ dem Hügel.
4. Der Fußball liegt _____ Jacks Füßen.
5. Das Vogelnest befindet sich _____ dem Baum.
6. Der Hund rennt _____ Vater und Jack.
7. Die Ziege steht _____ dem anderen Hügel. Sie steht _____ Vater und Jack.
8. Der Frosch sitzt _____ in dem Schilf.
9. Das Schilf ist _____ dem Frosch.
10. Die Ente schwimmt _____ dem Teich.
11. Mutter und Susi sitzen _____ der Picknickdecke.
12. Der blaue Ball liegt _____ von der weißen Blume.
13. Der Apfel liegt _____ dem Baum.

Silben

Wörter bestehen aus Silben. Klatsche die Wörter, dann kannst du feststellen, ob das Wort eine, zwei oder sogar drei Silben hat. Schreibe die Wörter unter den richtigen Behälter. Mit einem Wort aus jedem Behälter schreibe dann einen Satz.



eine Silbe

- 1. _____
- 2. _____
- 3. _____
- 4. _____

Erde	verwenden
Müll	Papier
Energie	Plastik
Glas	Tier
Sonne	wegwerfen
Benzin	Metall





zwei Silben

- 1. _____
- 2. _____
- 3. _____
- 4. _____



drei Silben

- 1. _____
- 2. _____
- 3. _____
- 4. _____



Woche 11

Klasse 3



Wähle das richtige Wort aus und schreibe es in die Lücke.

1. Die _____ haben sich die Aufführung im Theater angesehen.
(Kind / Kinder)
2. Mutter hat heute zwei _____ im Supermarkt gekauft.
(Brot / Brote)
3. Ich mag den Herbst, wenn alle _____ von den Bäumen fallen.
(Blatt / Blätter)
4. Im Englischen gibt es ein Gedicht mit dem Titel „Drei blinde _____“
(Maus/ Mäuse)
5. Der Zahnarzt hat sich meine _____ angeguckt.
(Zahn / Zähne)
6. Die _____ haben Omas Schmuck geklaut.
(Dieb / Diebe)
7. Diese Kuh hatte zwei _____
(Kalb / Kälber)
8. Wir haben diesen Winter zwei _____ gekauft.
(Mütze / Mützen)
9. Im Streichelzoo haben wir fünf _____ gestreichelt.
(Schaf / Schafe)
10. In dem Teich waren viele _____ zu sehen.
(Fisch / Fische)



Schreibaufgabe

Was möchtest du eines Tages werden? Schreibe 5 Sätze. Sage auch, warum du diesen Beruf ausüben willst.



Woche 11

Klasse 3





Die Summe ist 10

Ziehe einen Kreis um jeweils zwei Zahlen, die zusammen 10 ergeben.


6	4	7	5	5
2	8	3	6	2
9	10	4	9	7
1	0	8	3	4
6	5	2	9	6
3	7	1	5	5
4	7	3	2	8

Klasse 3 Woche 11

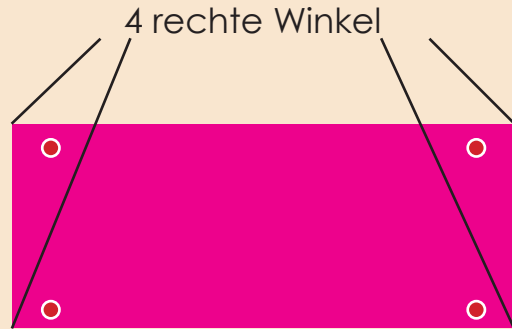


Formen


1. Dies ist ein Fünfeck. Schau dir die Form an und beantworte die Fragen



- a) Wie viele Seiten hat ein Fünfeck? _____
- b) Haben die Seiten die gleiche Länge? _____
- c) Aus wie viel Dreiecken kann man ein Pentagon formen? _____



2. Wie heißen die Formen?



Schreibe die Namen der Formen in die Tabelle. Schau dir die Eigenschaften an:

Merkmale	formen
gleichlange Seiten	
gerade Seiten	
gebogenen Seiten	
vier Winkel	



Subtraktion (Minusaufgaben)

$$\begin{array}{r} 92 \\ - 89 \\ \hline \\ \hline \end{array}$$

$$\begin{array}{r} 46 \\ - 18 \\ \hline \\ \hline \end{array}$$

$$\begin{array}{r} 55 \\ - 27 \\ \hline \\ \hline \end{array}$$

$$\begin{array}{r} 76 \\ - 39 \\ \hline \\ \hline \end{array}$$

$$\begin{array}{r} 92 \\ - 79 \\ \hline \\ \hline \end{array}$$

$$\begin{array}{r} 58 \\ - 29 \\ \hline \\ \hline \end{array}$$

$$\begin{array}{r} 93 \\ - 45 \\ \hline \\ \hline \end{array}$$

$$\begin{array}{r} 84 \\ - 56 \\ \hline \\ \hline \end{array}$$

$$\begin{array}{r} 92 \\ - 34 \\ \hline \\ \hline \end{array}$$



Textaufgaben

1. Bei einer Konferenz sind 178 Ärzte und 163 Ärztinnen. Aus dieser Gruppe haben 244 braune Augen. Wie viele haben eine andere Augenfarbe?

2. Bei Jeff arbeiten 558 Handwerker. 116 davon sind Maurer und 323 sind Fliesenleger. Wie viele Arbeiter machen eine andere Arbeit?

3. 51 Schüler und 24 Lehrer haben sich am Freitagabend den neuen Film im Kino angesehen. Es gibt 95 Sitzplätze im Kinosaal. Wie viele Stühle waren nicht besetzt?

4. Der Busfahrer muss eine Strecke von 100 km zurücklegen. Am Morgen ist er 45 km gefahren und mittags hat er 12 km zurückgelegt. Wie viele km muss er noch fahren, um an sein Ziel zu kommen?



Zahlen

1. Ergänze die fehlenden Zahlen:

a. $2 + \underline{\quad} = 20$

f. $2 + \underline{\quad} = 19$

b. $11 + \underline{\quad} = 20$

g. $9 + \underline{\quad} = 17$

c. $\underline{\quad} + 3 = 20$

h. $\underline{\quad} + 3 = 15$

d. $\underline{\quad} + 15 = 20$

i. $\underline{\quad} + 15 = 16$

e. $7 + \underline{\quad} = 20$

f. $7 + \underline{\quad} = 19$

2. Runde auf den nächsten Zehner auf oder ab.



a) _____

b) _____

c) _____

d) _____

e) _____

f) _____

3. Ergänze die fehlenden Zahlen in der Zahlenreihe.

a. 57, 59, 61, _____, _____ b. 60, 63, 66, _____, _____


c. 70, 75, 80, _____, _____ d. 40, 50, 60, _____, _____

e. 80, 84, 88, _____, _____ f. 95, 90, 85, _____, _____

Division (Teilung)

Beispiel: Teile die Punkte wie im Beispiel

$$10 : 3 = 3 \text{ Rest } 1$$




$$10 \div 2 = 5$$

$$10 \div 3 = 3 \text{ Rest } 1$$

$$10 \div 4 = 2 \text{ Rest } 2$$

$$10 \div 5 = 2$$



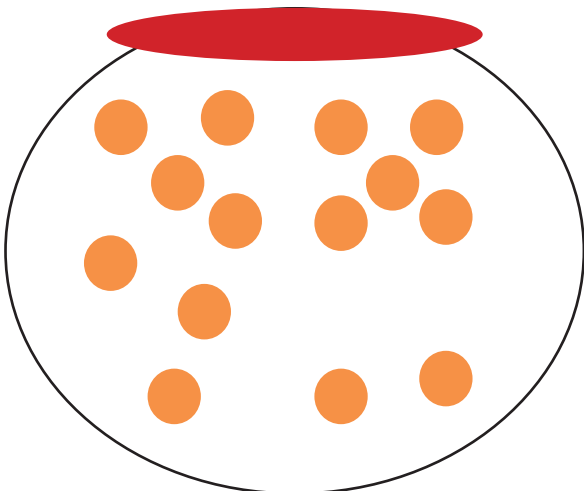
Teile die Punkte durch:

a. 2 _____

b. 3 _____

c. 4 _____

d. 5 _____



Teile die Punkte durch:

a. 2 _____

b. 3 _____

c. 4 _____

d. 5 _____



Kalender März

Schau dir das Kalenderblatt an und beantworte die Fragen:

So	Mo	Di	Mi	Do	Fr	Sa
	1	2	3	4	5	6
7	8	9	10	11	12	13
14	15	16	17	18	19	20
21	22	23	24	25	26	27
28	29	30	31			

- Schreibe das Datum vom ersten Montag hin. _____
- Schreibe das Datum des letzten Freitags hin. _____
- Wie viele Tage sind es vom 10. bis zum 23. März? _____
- Wie viele Tage liegen zwischen dem 15. und 26. März?

- Auf welchen Wochentag fiel der Unabhängigkeitstag? _____
- Auf welchen Wochentag fiel der 12. März? _____
- Auf welchen Wochentag fiel der 29. März? _____
- Was war der letzte Wochentag im Februar? _____
- Auf welchen Wochentag fällt der 1. April?



Gedicht

Herbst

Der Wind spielt Herbstspiele.

Im Garten und in der Diele.

Er hebt die Blätter auf und wirbelt sie herum
Orange, rote und braune Blätter fliegen herum

Der Wind schüttelt die Bäume hin und her
Er schüttelt die Äpfel frei, bis der Baum ist leer.

Er schüttelt die Kastanien, bis sie fallen
Und zu Boden sausen und dann aufknallen

Der Wind tanzt in der Sonne
Lacht voller Freud und Wonne

Alles fällt zu Boden
Und es formt einen Teppich von oben.



Wortschatz und Merkwörter

Wortschatz

Temperatur
Blätter
windig
heiß
Bäume
Tiere
Pflanzen

Merkwörter

braun
wissen
jetzt



Woche 12

Klasse 3



Phonetik in Englisch



aw ow

Schreibe die Laute auf die Linien

aw _____

ow _____

Zieh einen Kreis um das Wort, das zu dem Bild passt.

say	saw	slow	flower	flow	flew
					

Zieh einen Kreis um die Wörter mit „aw“ drin.

Zieh einen Kreis um die Wörter mit „ow“ drin.

paw snow lawn
 fawn bowl yawn
 saw law cow

flower claw towel
 howl straw brown
 crown owl tail

Schreibe 3 Wörter, die sich mit „saw“ reimen.

Schreibe 3 Wörter, die sich mit „cow“ reimen.

Woche 12
Klasse 3



Verben (Tuwörter)

Schau dir die Bildchen an und schreibe die passenden Tuwörter darunter.

- gucken
- tanzen
- schreiben
- lernen
- gehen
- trinken
- zuhören
- Fahrrad fahren
- Fußball spielen
- lesen
- rennen
- kochen
- schwimmen
- laufen
- essen
- Klavier spielen

Woche 12
Klasse 3



Fragewörter

Wer

macht diese Übung mit mir?

Wann

mache ich diese Übung?

Warum

mag ich diese Übung?

Was

ist meine Lieblingsübung?

Wo

mache ich diese Übung?

Wie

fühle ich mich nach dieser Übung?



Meine Lieblingsaktivität ist es, Cupcakes zu backen. Ich mag dieses Hobby, weil es Spaß macht. Außerdem esse ich gerne selber meine Cupcakes, vor allem mit Erdnussbutter-Zuckerguss. Wenn ich Cupcakes backe, bin ich meistens allein. Am häufigsten backe ich Cupcakes am Wochenende. Ich backe die Cupcakes in unserer Küche, bei uns zu Hause. Backen bringt mir viel Freude und ich entspanne dabei.



Pronomen (Fürwörter)

Verbinde die Nomen und das dazu passende Pronomen:

- | | | |
|----|------------------|--------|
| 1. | Pam und ich | a. er |
| 2. | Josef | b. sie |
| 3. | Alicia | c. wir |
| 4. | Das große Auto | d. sie |
| 5. | Kevin und Martin | d. es |



Ersetze die unterstrichenen Wörter mit passenden Pronomen:

1. Josef liebt es laut zu singen. _____
2. Jennifer und Carl hören sich gerne Josefs Gesang an.

3. Josef möchte ein Duett mit Olivia singen. _____
4. Olivia kann auch gut singen. _____
5. Das Konzert findet morgen Abend statt. _____
6. Freddy und ich werden in der ersten Reihe sitzen. _____
7. Freddys Eltern kommen mit. _____



Wortsuchspiel



Herbst



M	A	I	S	K	O	L	B	E	N	V	A	D
J	P	V	I	N	E	R	N	T	E	N	W	H
T	F	C	B	R	A	U	N	V	Y	B	B	A
F	E	L	A	G	E	R	F	E	U	E	R	R
J	L	Z	V	B	N	S	B	G	G	T	Z	K
V	O	G	E	L	S	C	H	E	U	C	H	E
B	R	M	N	Ä	S	L	F	L	S	Z	E	Z
V	D	R	O	T	C	G	C	B	M	T	R	C
L	L	G	X	T	X	S	W	F	G	T	B	U
B	I	R	N	E	M	L	T	A	S	B	S	E
P	T	Y	O	R	A	N	G	E	C	A	T	S
E	I	C	H	H	Ö	R	N	C	H	E	N	A

Woche 12

Klasse 3






Harke Vogelscheuche braun gelb

Eichhörnchen Blätter Apfel rot

Lagerfeuer Ernte Herbst Birne

Orange Maiskolben



Multiplikation

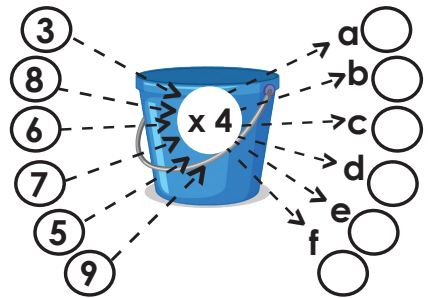
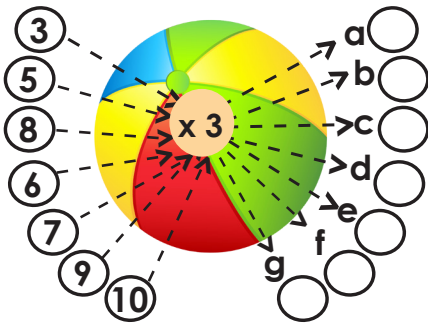
1. Rechne mal und ergänze die fehlenden Zahlen:

x	1	2	3	4	5	10
1	1	2	3			10
2	2	4	6			
5	5			20		
10	10	20	30	40		



2. mal 3

3. mal 4

Woche 12
Klasse 3




4. Teile die Zahlen in drei gleichgroße Gruppen




Formen

1. Gebrauche die Formen, um die Fragen zu beantworten.
Wie heißen die Formen?



a. _____ b. _____ c. _____
 d. _____ e. _____ f. _____

2. Verbinde die Formen, die gleich aussehen, auch wenn sie verschiedene Größen haben.



3. Sieh dir das Bild an und zähle die Formen.

- | | |
|-------------------|------------------------|
| 1. Rechteck _____ | 2. rechte Winkel _____ |
| 3. Viereck _____ | 4. Fünfeck _____ |
| 5. Oval _____ | |



Woche 12

Klasse 3



Textaufgaben

Woche 12

Klasse 3

1. Mario hat zwei Schachteln mit Bleistiften. In jeder Schachtel sind 40 Bleistifte. Mario gibt seinem Bruder 6 Bleistifte ab. Wie viele Bleistifte hat Mario nun übrig?

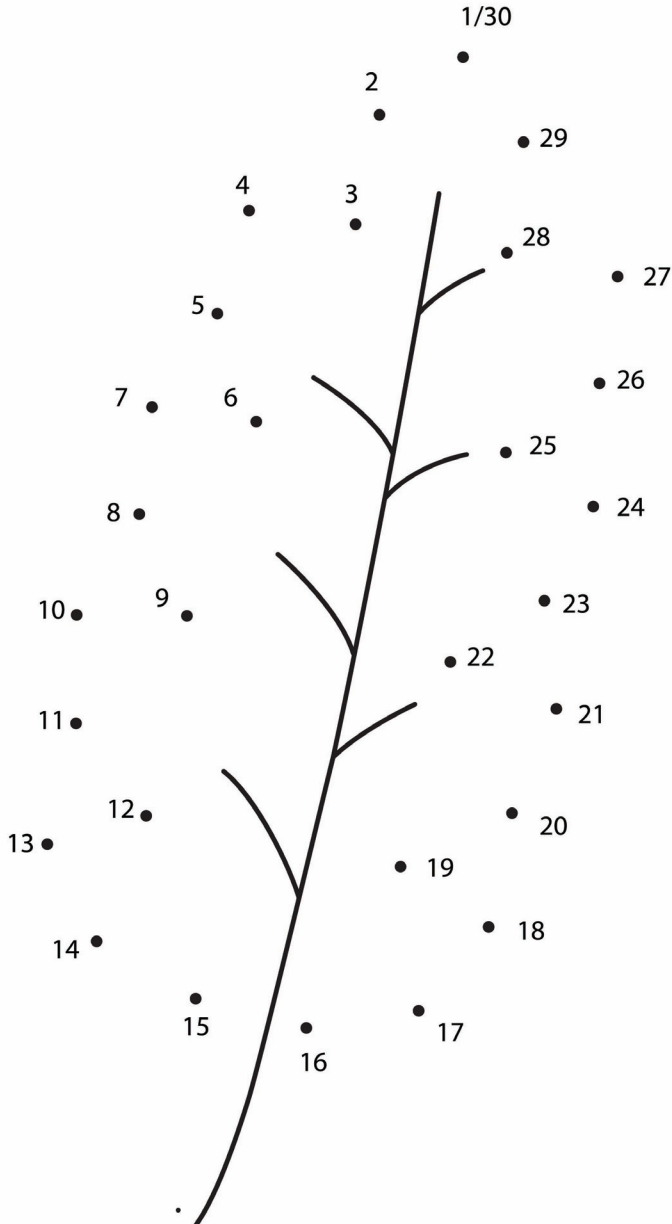
2. Bei einer Bäckerei kostet ein Cupcake 50c. Berliner kosten N\$ 1,25. Wie viel mehr kosten zwei Berliner als zwei Cupcakes?

3. Pam und Ben sind ins Kino gegangen. Pam hat die Kinokarten bezahlt. Jede Kinokarte kostete N\$ 7,35. Ben hat zwei Becher Popcorn gekauft. Ein Becher kostete N\$ 5,60. Wie viel mehr hat Pam ausgegeben?

4. In der Grundschule sind 95 Schüler in der dritten Klasse. 43 davon sind Mädchen. Am Freitag waren 5 Mädchen und 4 Jungs abwesend. Wie viele Jungs waren am Freitag in der Schule?



Verbinde die Punkte.



Geldscheine und Münzen

Wie heißen diese Geldstücke?







Woche 12

Klasse 3

Ergänze die Tabelle.

Geldschein	Farbe	Kopf auf der Vorderseite	Tiere auf der Rückseite	Wie viele Tiere?
a) N\$ 10				
b) N\$ 20				
c) N\$ 50				
d) N\$ 30				
e) N\$100				

Addition und Subtraktion

$$\begin{array}{r} 52 \\ +26 \\ \hline \\ \hline \end{array}$$

$$\begin{array}{r} 81 \\ -19 \\ \hline \\ \hline \end{array}$$

$$\begin{array}{r} 68 \\ -13 \\ \hline \\ \hline \end{array}$$

$$\begin{array}{r} 33 \\ +21 \\ \hline \\ \hline \end{array}$$

$$\begin{array}{r} 98 \\ -14 \\ \hline \\ \hline \end{array}$$

$$\begin{array}{r} 27 \\ -18 \\ \hline \\ \hline \end{array}$$

$$\begin{array}{r} 82 \\ +14 \\ \hline \\ \hline \end{array}$$

$$\begin{array}{r} 78 \\ -40 \\ \hline \\ \hline \end{array}$$

$$\begin{array}{r} 63 \\ -35 \\ \hline \\ \hline \end{array}$$

Woche 12

Klasse 3



Geld

Rechne plus mit den Geldscheinen und Münzen.




 = _____





 = _____





 = _____




 = _____


 = _____

Woche 12

Klasse 3

Wieviel Wechselgeld bekomme ich?



 Ich bezahle N\$5 = _____



 Ich bezahle N\$8,00 = _____



 Ich bezahle N\$2,00 = _____



 Ich bezahle N\$10,00 = _____



ESTEEMED STAKEHOLDERS

On behalf of the Ministry of Education Arts and Culture, we wish to take this opportunity to thank you all, who have completed the survey as per our call. The survey has made it possible for all the schools that has completed it fully, to be able to receive the correct number of books in terms of quantities as well as the amount of books needed for languages used.

We are certain that there are schools that has not yet completed due to various challenges and we are kindly requesting the Principals of such schools to get in touch with our office at mobile number +264 81 850 3609 or by email sophy@nmh.com.na to be able to still receive their surveys so that we complete the process.

We are confident that this initiative by the Ministry of Education, Arts and Culture is embraced by all stakeholders and as a distribution partner, we look forward to a productive 2021.

NMH NAMIBIA
MEDIA
HOLDINGS



Success begins with education

Parents will be able to visit the website and watch daily videos or they can subscribe to our Zoshy Telegram channel to receive daily videos. One can also download the PDF version of the book on the website. Also watch our daily show on Active Kids to watch your favourite lessons.



<https://t.me/zoshyonline>



ONLINE

For extra perks!

How does it work?



Easy peasy steps to follow

Register at zoshy

You can save your favourite lessons and find them easier



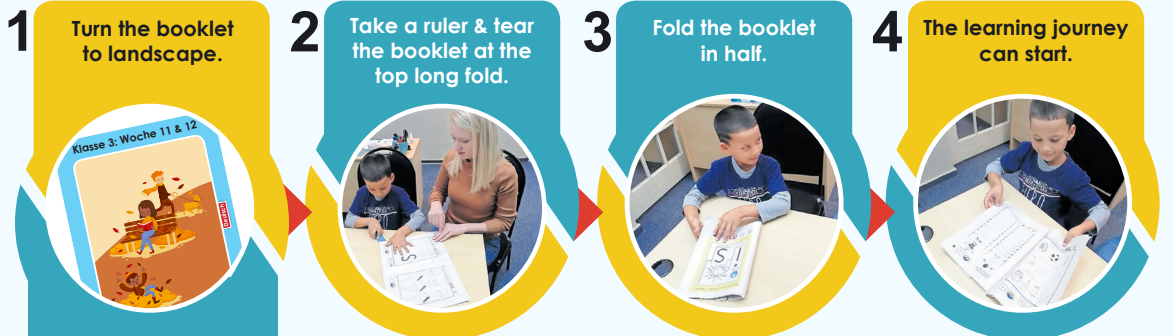
- Step 1: Find us at www.zoshy.online or scan the QR code
- Step 2: Find your grade and select the year
- Step 3: Choose your language
- Step 4: Choose the week you want to learn out of
- Step 5: Choose lessons from what lessons there are
- Step 6: Download booklet if you do not have it
- Step 7: Watch and follow the teacher as she explains what to do in the book
- Step 8: Follow us on Facebook (Zoshy & Active Kids) to never miss a video
- Step 9: Subscribe to our Zoshy Telegram channel if you want to receive daily updates



www.zoshy.online

In collaboration with the Ministry of Education, Arts and Culture

PRINT



STEPS
HOW TO TEAR & USE
THE BOOKLET

