

Graad 2: Week 9 & 10

Afrikaans



Publieke Vervoer en Plaaslike media



Ministry of Education,
Arts and Culture

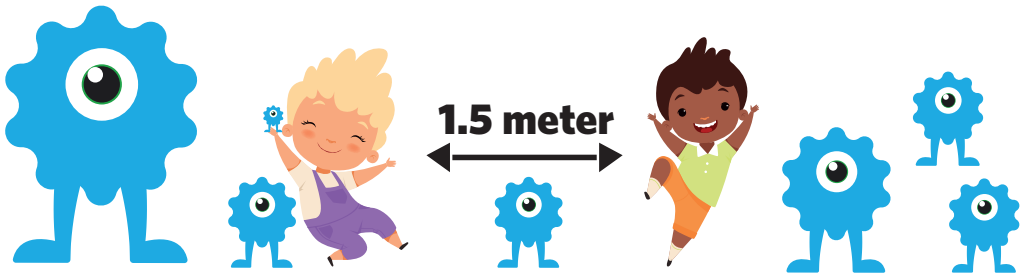


NAMIBIAN
COMMUNITY TRUST



for every child





- | | | | | |
|----------|----------|----------|----------|----------|
| 1 | 2 | 3 | 4 | 5 |
|----------|----------|----------|----------|----------|

These numbers indicate which day you can complete each worksheet! But if you want to, you can work ahead and do the rest as well.

This publication is a collaboration between the Ministry of Education, Arts and Culture and Namibia Media Holdings. This publication is sponsored by the Ministry.

Copyright © Ministry of Education, Arts and Culture. All parts of this publication cannot be reproduced, stored in a retrieval system or transmitted in any form or by any means, electronic, mechanical, photocopying, recording or otherwise without prior permission of the Ministry of Education, Arts and Culture or the Publisher.

Production by: Namibia Media Holdings  **NAMIBIA MEDIA HOLDINGS**

Printing: Newsprint Namibia 



The Ministry of Education, Arts and Culture
www.moe.gov.na



Hoofletters

Hersiening: Hoofletters en Punte

Die sinne is deurmekaar. Skryf hulle weer neer.
Maak seker jou sin begin met 'n hoofletter, en eindig met 'n punt.

skoenlapper Die sit blom. die op

1

gebruik reën. my sambreel die Ek in

2

haas wortel. eet krakerige Die die

3

skool. skryf Ek storie 'n lang in die

4

speel sand. kinders Die in die

5

se meisies gunsteling Al kleur die hul rooi. is

6



Sight words

Read and circle the sight words from the word search below.

1. but	3. on	5. our	7. that	9. she
2. they	4. at	6. was	8. he	10. be

Grade 2

Week 9

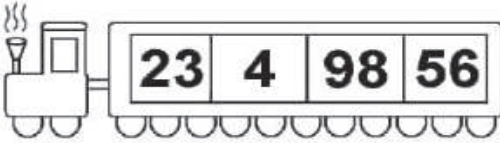
b	u	t	u	t
a	s	h	e	h
i	h	e	a	a
e	e	y	t	t
o	u	r	h	m
p	n	w	a	s
o	n	b	e	d



Ordering

1


Skryf die getalle in orde van kleinste tot grootste.




--	--	--	--




--	--	--	--




--	--	--	--




--	--	--	--



--	--	--	--



--	--	--	--



--	--	--	--

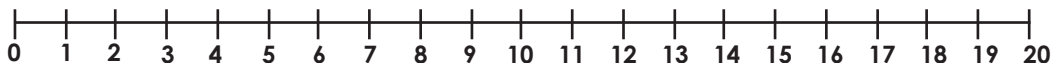
Graad 2

Week 9



Optelling en Afrekkling

1. Voltooi die volgende somme.



Getalle lyn afrek-

Voltooi die getal sinne. Gebruik die getallelyn om jou te help.

$17 - 2 = \square$

$19 - 10 = \square$

$11 - 5 = \square$

$12 - 6 = \square$

$14 - 5 = \square$

$16 - 1 = \square$

$18 - 4 = \square$

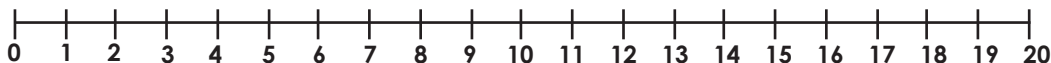
$20 - 15 = \square$

$13 - 8 = \square$

$13 - 3 = \square$

$19 - 8 = \square$

$18 - 9 = \square$



Graad 2

Getalle lyn afrekkling

Voltooi die getal sinne. Gebruik die getallelyn om jou te help.

$3 + 17 = \square$

$14 + 1 = \square$

$9 + 9 = \square$

$4 + 13 = \square$

$17 + 2 = \square$

$11 + 8 = \square$

$8 + 5 = \square$

$17 + 3 = \square$

$10 + 10 = \square$

$13 + 1 = \square$

$18 + 2 = \square$

$5 + 11 = \square$

Week 9



Lees die storie en voltooi die vrae:

Ons klas wil op 'n lekker uitstappie na Swakopmund gaan. Kan ons met 'n motor ry? Beslis nie! Ons sal nooit almal in die motor pas nie.

Kan ons met 'n vliegtuig gaan? Ek dink nie so nie! Dit sal te veel kos.

Kan ons met 'n fiets ry? Wat! Is jy van jou kop af! Dit salt te lank vat met 'n fiets.

Kan ons met 'n trein gaan? Ek hoop nie so nie! Dit sal te veel skud en n hele dag vat om daar te kom.

Kan ons met 'n boot gaan? Nee! Daar is nie water op die pad nie.

Kan ons met 'n bus gaan? Ja, dit sal werk. Ons moet onthou om alles saam te vat vir ons uitstappie.

1. Die klas wil waarheen op n uitstappie gaan?

_____.

2. Watse vervoer sal vir hulle te veel geld kos?

3. Vervoer met die _____ sal baie skud.

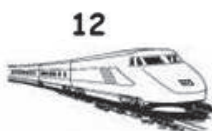
4. Die klas gaan met die _____ ry op hulle uitstappie na Swakopmund.

5. Hoe gaan jy elke oggend skool toe?

Verbind woorde en prente

fiets	<input type="checkbox"/>
bus	<input type="checkbox"/>
motor	1
helikopter	<input type="checkbox"/>
warmlygballon	<input type="checkbox"/>
water ponie	<input type="checkbox"/>
motorfiets	<input type="checkbox"/>
motor boot	<input type="checkbox"/>

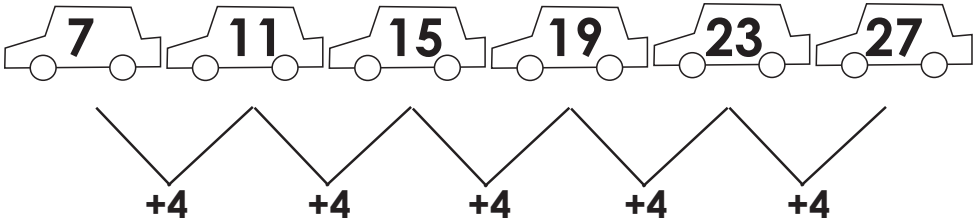
vliegtuig	<input type="checkbox"/>
bromponie	<input type="checkbox"/>
boot	<input type="checkbox"/>
duik boot	<input type="checkbox"/>
trein	<input type="checkbox"/>
trok	<input type="checkbox"/>



Write the words

- Die gouste :
- Die vinnigste :
- Die stadigste :
- Die mees gerieflikste :
- Wat het jy al gebruik :

Tel in 4's



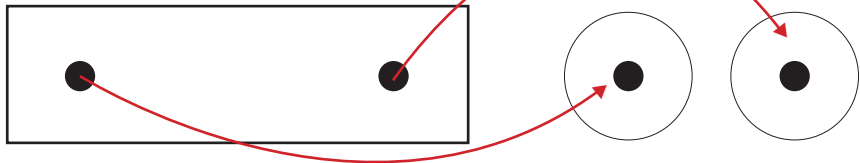
Voltooi die patrone


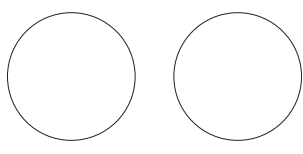
- a.
- b.
- c.
- d.
- e.





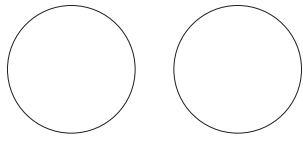
Halvering


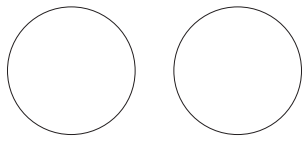
Halfte van:


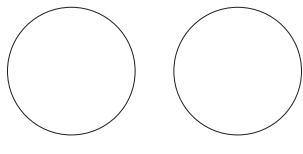
2  is **1**.....

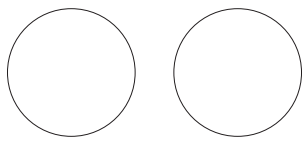
6   is

10   is

4   is

8   is

12   is

14   is










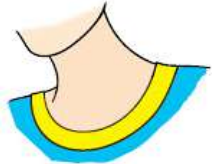
Graad 2

Week 9



Klanke: 'e'

m	b	n	p	n
---	---	---	---	---

Skryf die regte klanke in oop spasie:	Voltooi die begin klanke om woord te vorm uit die letters hier bo:
 n.....t	es
 h.....n	en
 p.....t	es
 b.....d	ek
 s.....s	ek

Gradd 2

Week 9



Werkwoorde

Voltooi die sinne deur die beste werkwoorde te kies:

loop skryf bou bak klim val

1. Ons _____ altyd skool toe op 'n mooi dag.
2. My broer hou daarvan om dinge te _____ met blokkies.
3. Ek kon nie wag om in die boom te _____ nie.
4. Ek gaan vir Nanna help om 'n koek te _____.
5. As Bob nie versigtig is nie gaan hy van sy fiets af _____.

Graad 2

Week 9



Voltooi tot 10

Eerstens, maak die nommers tot 10 vol. Tel dan wat is oor.

10 + 4 = 14

___ + ___ = []

___ + ___ = []

___ + ___ = []

___ + ___ = []

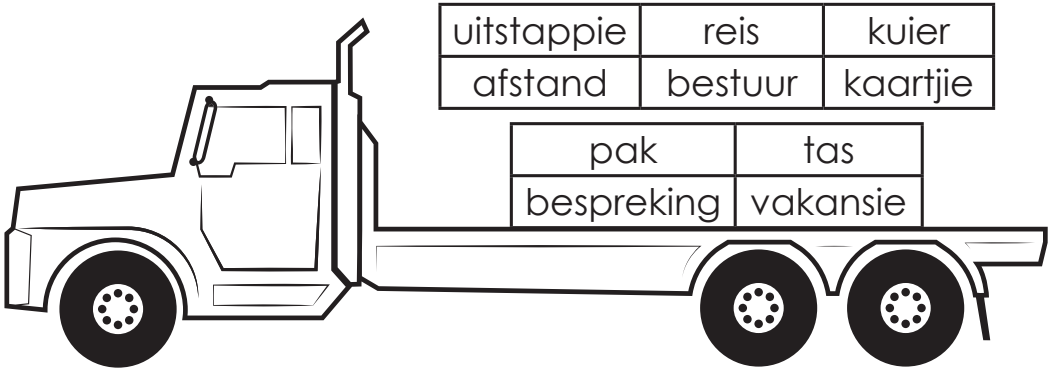
___ + ___ = []

___ + ___ = []

___ + ___ = []

Kreatiewe skryfwerk

Jy moet hierdie woorde kan lees oor vervoer.



Graad 2

Week 9

vervoer	motor	trok
motor fiets	fiets	land

boot	vliegtuig
lug	water




Kies enige 5 woorde en maak jou eie sinne.

Onthou jou **hoofletters** en **punte**.


Hoeveelheid

Vergelyk die volume van die vloeistof. Skryf 'meer' of 'minder' in die bokse:


1.




2.




3.




4.



5.























6.



Data hantering

Dit is hoe die kinders skool toe gekom het op Maandag.
Elke simbool wys hoe 'n kind skool toe gekom het.

Loop							
Motor							
Fiets							
Bus							

Graad 2

Week 9

1. Hoeveel kinders het skool toe geloop? _____
2. Hoeveel het met 'n fiets gekom? _____
3. Hoeveel het met 'n motor gekom? _____
4. Hoeveel kinders het met die skoolbus gekom? _____
5. Hoeveel kinders het nie geloop nie? _____
6. Hoe het meeste kinders skool toe gekom op daardie dag? _____



Look at the picture. Read the words and complete the word puzzle:

TV	radio	newspaper
magazine	computer	telephone

1
s
m

2
m a

3
r

4
t

5
n

6
o

7
t e

NEWSPAPER



Bou van 2-3 letter woorde

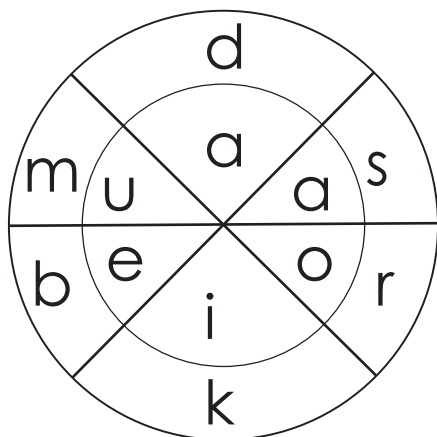
1. Gebruik die klinkers en konsonante om 2 letter woorde te bou.

o	i	a	n	u
o	s	m	a	f
x	t	p	s	

Voorbeeld: op

Graad 2

2. Kyk na die letters in die wiel en skryf 3 letter woorde neer wat jy kan sien.



Week 10



Oorbrug die 10

Maak 10 om jou te help om die probleem op te los.

$$6 + 4 + 8 = \square$$

10

$$7 + 3 + 2 = \square$$

$$4 + 6 + 4 = \square$$

$$9 + 1 + 4 = \square$$

$$1 + 8 + 2 = \square$$

$$5 + 5 + 3 = \square$$

$$5 + 5 + 5 = \square$$

$$8 + 2 + 3 = \square$$

$$1 + 7 + 3 = \square$$

$$6 + 4 + 2 = \square$$

$$9 + 1 + 7 = \square$$

$$7 + 3 + 4 = \square$$



Meervoude

Skryf die meervoud van die woorde: Voeg 'n 's' of 'e' by

koerant



horlosie



appel



vark



Graad 2

motor



rekenaar



Week 10

boks



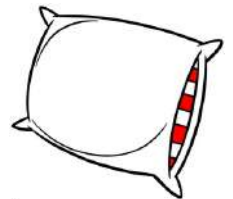
toebroodjie



tafel



kussing



Samevoegings

Voltooi die sinne deur die samevoeginge in die boks te gebruik. Gebruik elke woord slegs een keer.

om	as	voor
maar	sodat	of

1. Kom ons gaan winkel toe 'n lekker te kry.
2. Jy sal jou baadjie moet aantrek ons uitgaan.
3. Ek gaan die deur oopmaak ons kan ingaan.
4. Sal jy 'n pienk 'n blou koek verkies?
5. Sal jy verkies om 'n telefoon 'n tablet te kry?
6. Hulle lyk altwee goed, jy kan net een kies.
7. Kan ons park toe gaan ons klaar geëet is.



Meeting: Gewig

Orden die items in elke ry van 1 tot 3. Gebruik die 1 vir die swaarste item, en die 3 vir die ligste item.

a.







b.







c.







d.









Meetkunde: 2D Vorms

Knip die vorms uit en plak dit om jou eie vorm prentjie te maak.



Gradd 2

Week 10





Digrawe

'N Digraaf is 'n opeenvolging van twee letters wat saam 'n klank maak.

- 1. Sê die naam van die prent in die begin van die lyn.
- 2. Trek 'n sirkel om die woord wat met dieselfde klank begin as die prent.



skaap stad hond hooi



son slang kat sak



kos kers huis kan


Sê die naam van die prent in die begin van die ry. Omkring die woord met dieselfde klank aan die begin van die woord as die prent.



mier mot kers kerk



voël vol vark vat



water wonder kar rok

Graad 2

Week 10



Diphthongs

e and w = ew

Choose the correct word to complete each sentence.

1. The wind _____ the tree down. **(blew / flew)**
2. Dad bought a _____ car. **(few / new)**
3. My puppy likes to _____ **(chew / crew)** my toys.
4. The birds _____ south for the winter. **(flew / knew)**
5. Mom is a _____ minutes late. **(new / few)**
6. I _____ a picture of a dog. **(crew / drew)**
7. My mom made _____ for dinner. **(dew / stew)**
8. I love to _____ bubble gum. **(new / chew)**



Probleem oplossing

4

Lees die woord somme en antwoord die vrae.

1. Op Woensdag het pa 12 televisies in sy winkel reg gemaak. Dinsdag het hy 5 meer reg gemaak. Hoeveel televisies het hy altesaam reg gemaak?

2. Ek en my 3 vriende verkoop koerante. As elkeen van ons 5 koerante verkoop. Hoeveel koerante verkoop ons saam?

3. Sam moet 15 briewe skryf. Hy het nog net 7 geskrywe. Hoeveel briewe moet hy nog skrywe?

4. In jou klas was net 12 van die 20 kinders in die skool. Hoeveel kinders was afwesig?

5. Dan nooi 20 vriende na sy partytjie. Hy het net 13 kaartjies gestuur. Hoeveel kaartjies moet hy nog stuur?

6. Jy het 18 geskenke. Die helfte van hulle was van jou familie, die res was van jou vriende. Hoeveel geskenke het jou vriende jou gegee?

7. Daar is 10 huise in ons straat. Elke huis het 3 televisies. Hoeveel televisies is daar altesaam?

8. Jy spaar N\$5 vir jou verjaarsdag. Ma gee vir jou N\$3 en Pa N\$10. Hoeveel geld het jy nou?

Graad 2

Week 10



Tiene en waardes

5


Elke bondel het 10 stokke. Tel die stokke, en skryf dan die getal 10'e en die waarde.



stokke	waarde




stokke	waarde




stokke	waarde



stokke	waarde



stokke	waarde



stokke	waarde

Kreatiewe skryfwerk

5

29

Lees die storie en skryf 5 sinne om die storie klaar te maak.

Ann het 'n partytjie. Sy wil al haar vriende nooi. Sy vertel vir hulle van al die lekker dinge wat hulle gaan doen by die partytjie. Elkeen wat na die partytjie kom moet 'n pienk hemp en

Graad 2

Week 10



$7 - 4 = \underline{\quad}$

$28 - 26 = \underline{\quad}$

$19 - 2 = \underline{\quad}$

$29 - 22 = \underline{\quad}$

$18 - 7 = \underline{\quad}$

$5 - 5 = \underline{\quad}$

Graad 2

$9 - 5 = \underline{\quad}$

$15 - 12 = \underline{\quad}$

$6 - 6 = \underline{\quad}$

$17 - 15 = \underline{\quad}$

Week 10

$11 - 4 = \underline{\quad}$

$18 - 12 = \underline{\quad}$

$18 - 4 = \underline{\quad}$

$13 - 12 = \underline{\quad}$

$17 - 14 = \underline{\quad}$

$15 - 13 = \underline{\quad}$

$19 - 16 = \underline{\quad}$

$20 - 19 = \underline{\quad}$

$17 - 5 = \underline{\quad}$

$9 - 5 = \underline{\quad}$





ESTEEMED STAKEHOLDERS

On behalf of the Ministry of Education Arts and Culture, we wish to take this opportunity to thank you all, who have completed the survey as per our call. The survey has made it possible for all the schools that has completed it fully, to be able to receive the correct number of books in terms of quantities as well as the amount of books needed for languages used.

We are certain that there are schools that has not yet completed due to various challenges and we are kindly requesting the Principals of such schools to get in touch with our office at mobile number +264 81 850 3609 or by email sophy@nmh.com.na to be able to still receive their surveys so that we complete the process.

We are confident that this initiative by the Ministry of Education, Arts and Culture is embraced by all stakeholders and as a distribution partner, we look forward to a productive 2021.

NMH NAMIBIA
MEDIA
HOLDINGS



Success begins with education

Parents will be able to visit the website and watch daily videos or they can subscribe to our Zoshy Telegram channel to receive daily videos. One can also download the PDF version of the book on the website. Also watch our daily show on Active Kids to watch your favourite lessons.



<https://t.me/zoshyonline>



ONLINE

For extra perks!

How does it work?



Easy peasy steps to follow

Register at zoshy

You can save your favourite lessons and find them easier



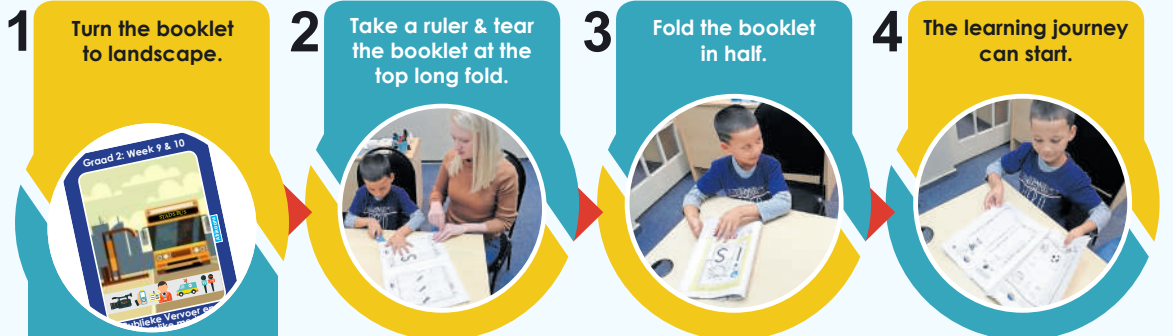
- Step 1: Find us at www.zoshy.online or scan the QR code
- Step 2: Find your grade and select the year
- Step 3: Choose your language
- Step 4: Choose the week you want to learn out of
- Step 5: Choose lessons from what lessons there are
- Step 6: Download booklet if you do not have it
- Step 7: Watch and follow the teacher as she explains what to do in the book
- Step 8: Follow us on Facebook (Zoshy & Active Kids) to never miss a video
- Step 9: Subscribe to our Zoshy Telegram channel if you want to receive daily updates



www.zoshy.online

In collaboration with the Ministry of Education, Arts and Culture

PRINT



STEPS
HOW TO TEAR & USE
THE BOOKLET

